

Četrtek, 7. 5. 2020

SLOVENŠČINA – Pisane črke

V spodnjih besedah se skrivajo števila. Poišči jih in pobarvaj!


PETELIN ENAKO ŠESTILO PETRA DESETICA KOSEM STOTICA

(Rešitev: sto, pet, ena, deset, šest, osem)

 Besedi za sličico dodaj napisane črke. Napiši novo besedo.

 EK	PESEK	<i>pesek</i>
 NICA		
LA 		
 ICA		
KR  ČE		
KULT 		
 R		

(Rešitev: urar, ježica, Pesnica, kultura, krmišče, lajež)

 V besedah poišči imena živali in jih obkroži.

uspavanka gospa jopica hlev
kozarec baraka igračka kravata

(Rešitev: pav, krava, lev, račka, rak, opica, koza, gos)

Imena živali s pisanimi črkami prepiši v zvezek.

SPOZNAVANJE OKOLJA- Kako se gibajo in premikajo?

Se mogoče je v tvoji omari z igračkami nahaja kakšen tovornjak, kopač ali podoben delovni stroj?

Če ja, ga hitro prinesi. Stroj poskusi premikati.

Veš, kako se premikajo pravi tovornjaki? Kaj jih poganja?

Kdo je še potreben, da se tovornjak ustrezno giblje?

Kako deluje kopač? Kdo ga mora upravljati, da stroj ustrezno deluje?

Oglej si spodnje posnetke ter poimenuj stroje na posnetkih. Bodi pozoren/pozorna na to, kako se premikajo.

BULDOŽER

<https://www.youtube.com/watch?v=imsvm1sF2TY>

VALJAR

<https://www.youtube.com/watch?v=-3MBRnptR-s>

BAGER, TOVORNJAK PREKUCNIK

<https://www.youtube.com/watch?v=uT2iHkvnNuk>

Si mogoče opazil/a, kakšne sledi puščajo ti stroji pri gibanju?

Kaj lahko vse počneš s pomočjo strojev, naprav in pripomočkov?

Nariši preglednico in jo dopolni.

	dvigam		tehtam	valjam	kopljem
škarje		x			
tehtnica					
bager					
valjar					

MATEMATIKA – Prostornina - liter



Prejšnjo uro matematike si meril/a prostornino z različno velikimi kozarci. Dobil/a si različne rezultate. Ker pri merjenju želimo dobiti vedno enake rezultate, merimo prostornino z enoto, ki ji rečemo **LITER**. Krajše zapišemo malo pisano črko l.

LITER ℓ

V trgovini sem kupil en liter mleka.

En liter zapišemo krajše 1 ℓ.

Koliko tekočine je v embalaži?

		
1 liter 1 ℓ	2 litra 2 ℓ	5 litrov 5 ℓ

Reši nalogo na strani LiliBi:

<https://www.lilibi.si/solska-ulica/matematika/merim/prostornina>

Naloga te čaka tudi v spletni vadnici Moja matematika. Reši jo, če želiš.

Prepiši v zvezek in reši naloge.

6. Zapiši krajše.

33 litrov = 33 ℓ	29 litrov = _____	61 litrov = _____
58 litrov = _____	44 litrov = _____	15 litrov = _____
79 litrov = _____	89 litrov = _____	90 litrov = _____

7. Seštej.



$3 \ell + 80 \ell = \underline{\quad} \ell$	$20 \ell + 3 \ell = \underline{\quad} \ell$
$2 \ell + 26 \ell = \underline{\quad} \ell$	$6 \ell + 52 \ell = \underline{\quad} \ell$
$53 \ell + 7 \ell = \underline{\quad} \ell$	$1 \ell + 50 \ell = \underline{\quad} \ell$
$48 \ell + 30 \ell = \underline{\quad} \ell$	$29 \ell + 70 \ell = \underline{\quad} \ell$
$16 \ell + 32 \ell = \underline{\quad} \ell$	$34 \ell + 15 \ell = \underline{\quad} \ell$