

Četrtek, 2. 4. 2020

SPOZNAVANJE OKOLJA – Skrbim za okolje



Ali poznaš ta znak? Kaj pomeni ta znak?

Kdo ali kaj onesnažuje okolje? Kaj se zgodi, če odpadke mečemo na tla?

Ali veš, da se papir razkraja en mesec, nogavica eno leto, pločevinka 200 let, plastična steklenica 400 let, žvečilni gumi se nikoli ne razgradi. Za vedno ostane in onesnažuje naravo.

Odpri zelen učbenik na strani 65 in preberi.

SLOVENŠČINA – Preveri svoje znanje

Odpri oranžen delovni zvezek na strani 44 in preberi besedilo.

Kaj je opisal Bine? Kaj je opisala Lili? Še sam povej kratek opis živali (npr. muca ali krokodil...) in opis poti (do šole ali trgovine ali do prijatelja...)

V tem času si se naučil/a opisati žival, povedati opis poti ter primerjati lastnosti (hiter, hitrejši, najhitrejši).

Zdaj pa reši nalogi na strani 45. Natančno upoštevaj navodila in na koncu oceni svoje znanje – nalepi čebelčka.

MATEMATIKA - Seštevam dvomestna števila do 100 (DE+D)

Danes boš računal/a do 100. Ker takšnih računov še nismo računali, si boš pomagal/a z risanjem desetice (palice) in enice (pike) – tako kot v šoli. **Obvezno!**

Takole bo šlo:

- v zvezek najprej zapiše račun $14 + 30 = \underline{\quad}$
- nad računom nariše sliko: | •••• | | |
- izračunaj vsoto: **seštej palice** (desetice) in **preštej enice** (pike), ugotoviš, da imaš skupaj **4 D** in **4E**, torej je vsota **44**.

V zvezku bo videti takole:

Prepiši in dokončaj! Pazi na lepo pisavo!

| •••• | | |

$14 + 30 = 44$

$13 + 50 =$

$17 + 20 =$

$22 + 30 =$

$36 + 40 =$

$73 + 10 =$

$41 + 30 =$

$54 + 20 =$

$29 + 70 =$

Zdaj pa še naloge v delovnem zvezku – stran 5,6. Pomagaj si z risanjem na list!

POMOČ ZA STARŠE

- ker nimate 3. dela delovnega zvezka, vam pošiljam skenirane strani, v navodilih bom to poimenovala kar delovni zvezek (prepišejo v zvezek, če imate možnost, lahko tudi natisnete),
- otroci v zvezek obvezno rišejo palice in pike nad račune: / pomeni 10, • pomeni 1,
- ko rešujejo naloge iz delovnega zvezka, naj si pomagajo z risanjem – NUJNO, čeprav bo šlo bolj počasi,

- za boljše matematike lahko račune ponazorimo tudi s premikanjem po stotičnem kvadratu. Ponovite, da je premik levo ali desno za en kvadrat enako $+1$ ali -1 , premik gor ali dol za eno vrsto pa -10 oz. $+10$.
- Učenec ima stotični kvadrat in računa po navodilih, npr. si na polju številka 22. Pojdi 6 polj navzdol. Kam prideš? Napiši račun! $22 + 60 =$
- **NE UČITE OTROKA PISNO SEŠTEVATI, ker bodo kasneje imeli težave. Naj rišejo, pa če jim je še tako odveč!**

SEŠTEVAM DVOMESTNA ŠTEVILA DO 100

Na tekmovanju bodo za pripravo testa za torto velikanko porabili 42 jajc, za pripravo krem in preliva pa še 20 jajc. Koliko jajc bodo porabili za pripravo torte velikanke?



$$42 + 20 = 62$$

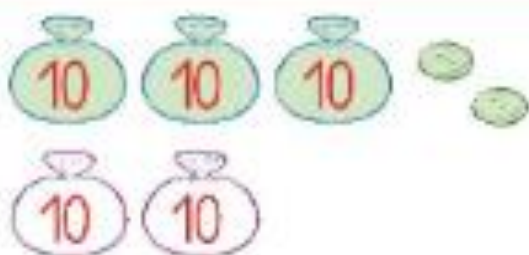
Za pripravo torte velikanke bodo porabili 62 jajc.

Oglej si sliko. Preberi račun.



$$34 + 10 = 44$$

1. Oglej si sliko. Napiši račun.



2. Seštej.

$14 + 60 = \underline{\quad}$

$53 + 20 = \underline{\quad}$

$32 + 50 = \underline{\quad}$

$41 + 30 = \underline{\quad}$

$77 + 10 = \underline{\quad}$

$65 + 20 = \underline{\quad}$

$30 + 27 = \underline{\quad}$

$70 + 19 = \underline{\quad}$

$40 + 23 = \underline{\quad}$

$60 + 38 = \underline{\quad}$

$80 + 13 = \underline{\quad}$

$20 + 67 = \underline{\quad}$

$56 + 30 = \underline{\quad}$

$33 + 60 = \underline{\quad}$

$42 + 10 = \underline{\quad}$

$27 + 50 = \underline{\quad}$

$50 + 23 = \underline{\quad}$

$10 + 35 = \underline{\quad}$

3

V modrem bloku stanuje 60 odraslih in 28 otrok, v rumenem bloku pa 42 odraslih in 30 otrok.

Koliko ljudi stanuje v modrem bloku?

Odgovor: _____

Koliko ljudi stanuje v rumenem bloku?

Odgovor: _____

Koliko otrok stanuje v obeh blokih?


Odgovor: _____

SLOVENŠČINA – PISANA ČRKA K


Danes je čas za novo črko. Najprej si oglej, kako jo pišemo.

<https://www.lilibi.si/solska-ulica/slovenscina/dezela-abc/pisane-crke/k/kako-napisemo-to-crko>

Mala pisana črka k je težka za zapis, zato prosi starše za pomoč. Napisati jo moraš v eni potezi.



Veliko črko K napišemo v dveh potezah – glej sliko in številke.



Sledi zapisu s prstom, napiši po zraku največji **k** in **K** na svetu, napiši črki s prstom na tla, na omaro, na dlan. Pazi na poševne in navpične črte.

Ti gre? No, sedaj je na vrsti zvezek. Pazi, kje boš zapisal/a črko k. Če ne gre, prosi starše za pomoč.

Napiši dve vrsti male črke in dve vrsti velike črke (v zvezek). Kako je šlo?

Prepiši naslednje besede in povedi – vsako dvakrat:

les lok Lina roka

Na krožniku so slive.

Sara liže liziko.

Na tej strani imaš tudi učni list, ki ga lahko rešiš (če imate doma tiskalnik).

<https://www.lilibi.si/solska-ulica/slovenscina/dezela-abc/pisane-crke/k>