

Ponedeljek, 6. 4. 2020

ŠPORT

Dobro jutro!

Poznaš igro »kamen, škarje, papir«? Poišči nekoga, da se bosta lahko skupaj igrala. Spodaj imaš navodila, kako zraven telovadiš.

KAMEN, ŠKARJE, PAPIR - TELOVADBA



NAREDI TOLIKO
TREBUŠNJAKOV,
KOLIKOR SI STAR.



10 KRAT VISOKO SKOČI V ZRAK.




10 SEKUND ČIM HITREJE
TECI NA MESTU.



DRŽI PLANK 25 SEKUND.



NAREDI 10 POČEPOV.




NAREDI 5 SKLEC.

SLOVENŠČINA – PISANA ČRKA H

Danes je čas za novo črko. Najprej si oglej, kako jo pišemo.

<https://www.lilibi.si/solska-ulica/slovenscina/dezela-abc/pisane-crke/h/kako-napisemo-to-crko>

Mala pisana črka h je podobna mali pisani črki k. Velika črka H je zelo zapletena. Večkrat vadi zapis po zraku ob spremljanju posnetka na LiliBi.



Sledi zapisu s prstom, napiši po zraku največji H in h kar ga zmoreš, napiši črki s prstom na vrata, na zvezek, na mamino dlan. Pazi na poševne in navpične črte. Obe črki napišeš z eno potezo!

Ti gre? No, sedaj je na vrsti zvezek. Pazi, kje boš zapisal/a črko h. Če ne gre, prosi starše za pomoč.

Napiši dve vrsti male črke in dve vrsti velike črke. Kako je šlo?

Prepiši s pisanimi črkami naslednje besede – vsako dvakrat:

**meh hrana hren himna smeh Miha Hamin Helena
Kim Luka Rok Lana Maks Ela Minela**

Na tej strani imaš tudi učni list, ki ga lahko rešiš (če imate doma tiskalnik).

<https://www.lilibi.si/solska-ulica/slovenscina/dezela-abc/pisane-crke/h>

Lahko mi pošlješ fotografijo tvojega zapisa, da preverim, kako ti gre.

MATEMATIKA

Reši najprej nekaj računov v zvezek.

$$62 + 35 = \quad 47 + 22 = \quad 35 + 32 =$$

$$44 + 33 = \quad 24 + 42 = \quad 76 + 12 =$$

Zdaj pa reši naloge v delovnem zvezku na strani 8 (*»delovni zvezek« najdeš na naslednji strani*).

Kako ti je šlo?

Tukaj najdeš še še nekaj dodatnih težjih nalog. Reši jih, če želiš. V zvezek zapiši le račun in odgovor.

1. Izračunaj vsoto števil 52 in 34.
2. Simon ima 31 evrov, Sonja pa 33 evrov.
Ali si lahko s skupnim denarjem kupita kotalke, ki stanejo 65 evrov?
3. Lili in Bine sta računata. Lili je izračunala 22 računov, Bine pa 4 račune več kot Lili.
Koliko računov sta izračunala oba skupaj?
4. Zoja je včeraj prebrala 26 strani knjige, danes pa še 42 strani.
Koliko strani mora še prebrati, če ima knjiga 70 strani?

NAVODILA ZA STARŠE:

- pri 7. nalogi naj rezultat kar zapišejo zraven računa. Križanke ni treba prerisovati, otroci jo izpolnijo le, če imate doma tiskalnik.

7. Reši križanko.

VODORAVNO

A = $13 + 34$

B = $22 + 11$

C = $90 + 6$

D = $31 + 14$

E = $0 + 29$


F = $44 + 31$

G = $48 + 0$

H = $40 + 42$

J = $14 + 12$

K = $5 + 30$



NAVPIČNO

A = $42 + 4$

B = $6 + 30$

C = $51 + 44$

Č = $8 + 11$

D = $25 + 20$

E = $14 + 14$

F = $0 + 71$

G = $40 + 2$

H = $72 + 14$

I = $42 + 23$

- B. Klovn Jaka ima v rokah 42 zelenih in 11 rdečih balonov. Koliko balonov ima Jaka?



Odgovor: _____

9. Dopolni.

Več denarja ima _____

Manj denarja ima _____

Skupaj imata _____ €.

Ali s skupnim denarjem lahko kupita igralno konzolo, ki stane 89 €?

DA NE



LIKOVNA UMETNOSTI – velikonočni izdelek

V nedeljo boste nekateri praznovali veliko noč. To je največji krščanski praznik. Marsikdo se je že lotil ustvarjanja in začel z barvanjem pirhov.

Ker doma nimamo vsi istih pripomočkov, imaš spodaj nekaj idej, na kakšen način lahko ustvarjaš. Izberi si en izdelek in ga naredi. Lahko narediš tudi nekaj čisto svojega.

Vesela bom fotografije tvojega izdelka.

